


Tiokompisar

Hjälp oss att lösa mysteriet! Vilken tiokompis är det som har försvunnit från en av Superhjälparna i varje ruta?

www.superhjälparna.se



9



6



5




2



7



9



1




3



4



8



1



3



8



5



4



6



7



2

Fortsätt arbeta med tiokompisarna som saknas nedan:

$8 + \square = 10$

$\square + 1 = 10$

$6 + \square = 10$

$5 + \square = 10$

$\square + 3 = 10$

$\square + 9 = 10$

$4 + \square = 10$

$2 + \square = 10$

$\square + 7 = 10$

$\square + 5 = 10$

– Härligt kämpat! Supertack för att du har hjälpt oss att reda ut mysteriet! /Superhjälparna