

Tiokompisar

Hjälp oss att lösa mysteriet! Vilken tiokompis är det som har försvunnit från en av Superhjälparna i varje ruta?


www.superhjälparna.se




9



7



5



2




3



1




9



5




6



8



4



3

 8		 <input type="text"/>	 6	 <input type="text"/>	 4
 <input type="text"/>	 7	 1	 <input type="text"/>	 2	 <input type="text"/>

Fortsätt arbeta med tiokompisarna som saknas nedan:

$2 + \square = 10$
 $\square + 9 = 10$
 $5 + \square = 10$

$5 + \square = 10$
 $\square + 7 = 10$
 $\square + 1 = 10$

$4 + \square = 10$
 $8 + \square = 10$
 $\square + 3 = 10$

$\square + 6 = 10$

– Härligt kämpat! Supertack för att du har hjälpt oss att reda ut mysteriet! /Superhjälparna