

Tiokompisar

Hjälp oss att lösa mysteriet! Vilken tiokompis är det som har försvunnit från en av Superhjälparna i varje ruta?

www.superhjälparna.se



9



7



5



2



3



1



9



5



6















8



4



3

 8			 6		 4
	 7	 1		 2	

Fortsätt arbeta med tiokompisarna som saknas nedan:

$2 + \square = 10$

$\square + 9 = 10$

$5 + \square = 10$

$5 + \square = 10$

$\square + 7 = 10$

$\square + 1 = 10$

$4 + \square = 10$

$8 + \square = 10$

$\square + 3 = 10$

$\square + 6 = 10$

– Härligt kämpat! Supertack för att du har hjälpt oss att reda ut mysteriet! /Superhjälparna